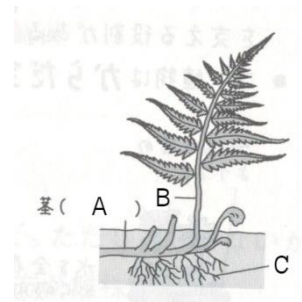
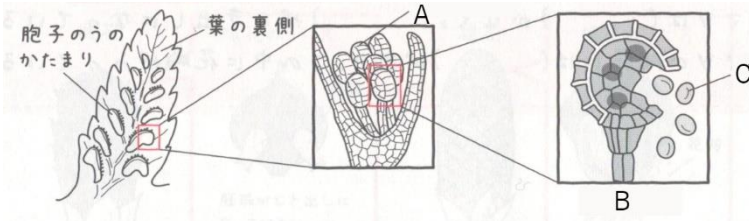


やさしい中学理科 1-6 チェック問題 氏名

(1) 種子をつくらない植物は[①]で増える。それは葉の裏側についている[②]で作られる。そのような植物は[③ 植物と 植物]がある。

(2) 下図のA~Cに適切な語を入れよう。

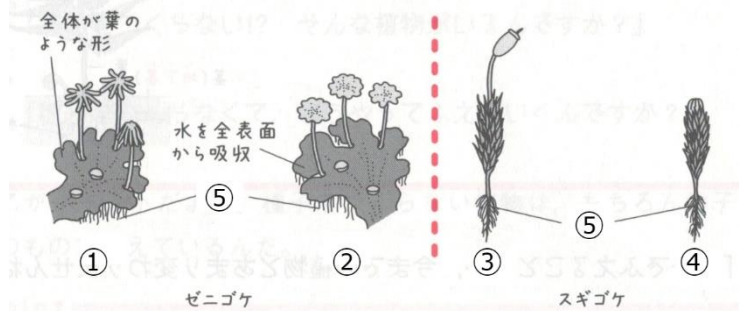


(3) シダ植物には、根・茎・葉の区別が[ある / ない]。

(4) 右図のA~Cに適切な語を入れよう。

(5) コケ植物には、根・茎・葉の区別が[① ある / ない]。からだを支える役割の部分[②]という。

(6) 下図の①は[① 雄株 / 雌株]、②は[② 雄株 / 雌株]、③は[③ 雄株 / 雌株]、④は[④ 雄株 / 雌株]である。また⑤は[⑤]である。



(1)①	(1)②
(1)③	(2)A
(2)B	(2)C
(3)	(4)A
(4)B	(4)C
(5)①	(5)②
(6)①	(6)②
(6)③	(6)④
(6)⑤	