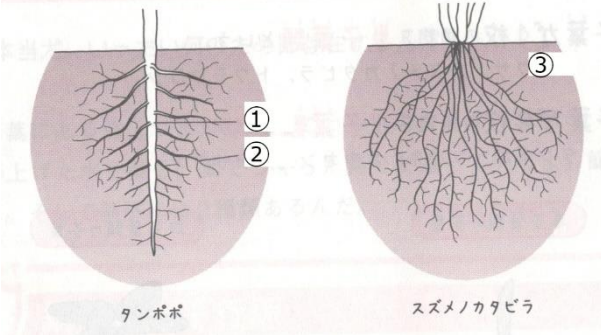
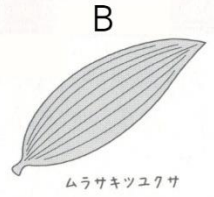
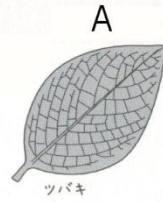


やさしい中学理科 1-4 チェック問題 氏名

- (1) 葉の中にある、根から吸い上げた水や養分や葉でつくった養分が通る部分を〔① 〕という。これには二種類あり、図のAを〔② 〕、Bを〔③ 〕という。
- (2) 芽が出たばかりの葉を〔① 〕といい、それが1枚の植物を〔② 〕、2枚の植物を〔③ 〕という。
- (3) 図下の①～③の部分の名前を答えよう。



- (4) 根の先には細かい根がたくさんついている。これを〔① 〕という。これにより根の〔② 〕が大きくなり、〔③ や 〕を吸い上げる効率が〔④ 良くなる / 悪くなる 〕。

(1)①	(1)②
(1)③	(2)①
(2)②	(2)③
(3)①	(3)②
(3)③	(4)①
(4)②	(4)③
(4)④	