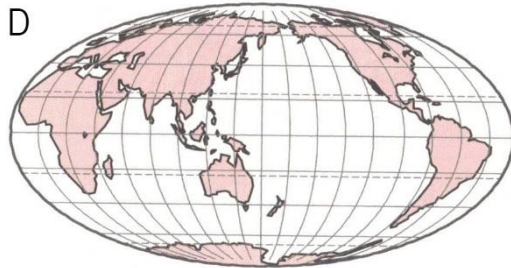
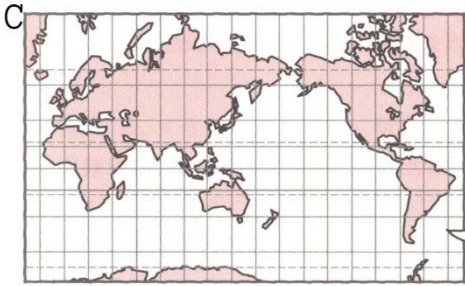
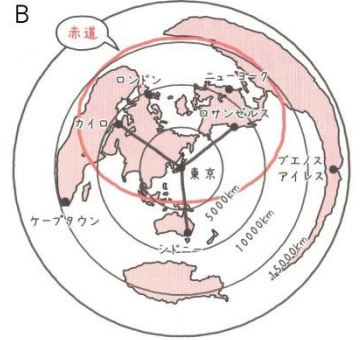
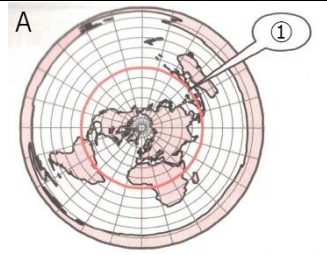


やさしい中学地理 1-4 チェック問題 氏名

- (1) 地球上の距離や面積、形や方位など全てをほぼ正しく表すことができるのは [ ] である。
- (2) 右図 A の①は[① ]であり、この地図は[② と ]が正しく表されているので、[③ ]として利用されている。
- (3) 右図 B において東京から最も遠い都市は[① ]であり、その方角は東京から[② ]の方向である。
- (4) 下図 C は[① と ]が直角に交わっており、[② ]が正しい地図であるが、[③ と ]は正しくない。主に[④ ]に利用されている。
- (5) 下図 D は[① ]が正しい地図であるが、[② と ]は正しくない。主に[③ ]として利用されている。



(1) 地球儀	(2)① 赤道	(2)② 距離と方位
(2)③ 航空図	(3)① ブエノスアイレス	(3)② 東
(4)① 経線と緯線	(4)② 角度	(4)③ 面積と方位
(4)④ 航海図	(5)① 面積	(5)② 距離と方位
(5)③ 分布図		