

やさしい中学地理 1-4 チェック問題 氏名

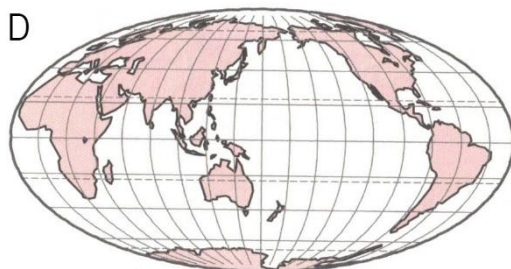
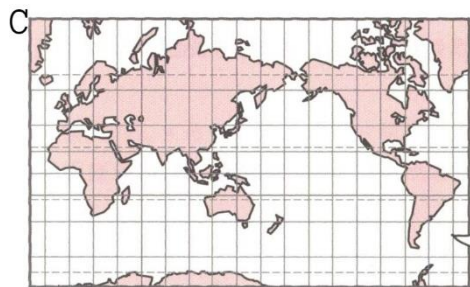
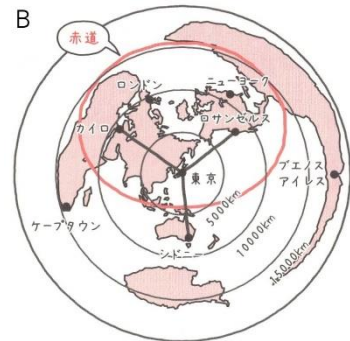
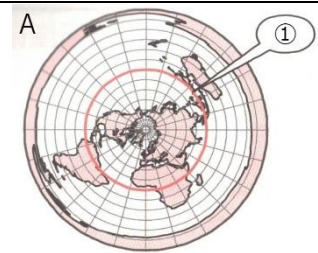
(1) 地球上の距離や面積、形や方位など全てをほぼ正しく表すことができるのは [] である。

(2) 右図 A の①は [①] であり、この地図は [②] と [] が正しく表されているので、 [③] として利用されている。

(3) 右図 B において東京から最も遠い都市は [①] であり、その方角は東京から [②] の方向である。

(4) 下図 C は [①] と [] が直角に交わっており、 [②] が正しい地図であるが、 [③] と [] は正しくない。主に [④] に利用されている。

(5) 下図 D は [①] が正しい地図であるが、 [②] と [] は正しくない。主に [③] として利用されている。



(1)	(2)①	(2)②
(2)③	(3)①	(3)②
(4)①	(4)②	(4)③
(4)④	(5)①	(5)②
(5)③		